

## Hudobná náuka 1.ročník, I.časť

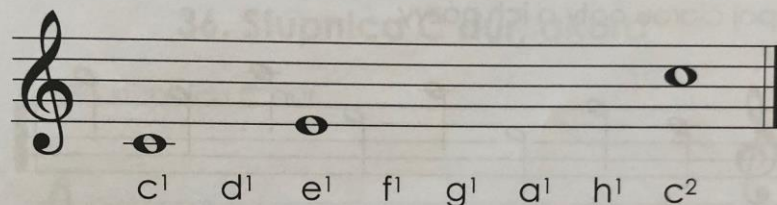
### Téma: Stupnica C dur a takt štvorštvrt'ový

Zapíšeme si do not.zošita, čo znamená stupnica. Doplníme noty v C dur stupnici a zapíšeme ju do notovej osnovy v zošite. Názov stupnice bude vždy odvodený od prvého a posledného tónu danej stupnice.

#### 32. Stupnica C dur

**Durová stupnica** je rad ôsmich tónov nasledujúcich za sebou. Prvý tón udáva názov stupnice.

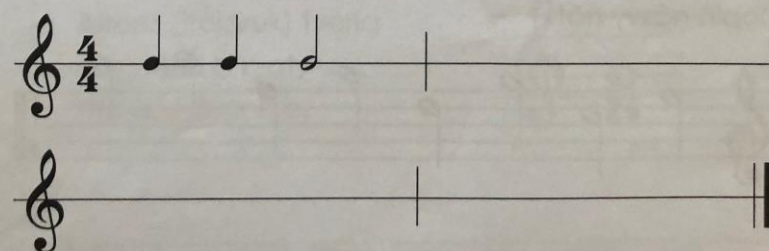
Doplň chýbajúce noty v stupnici C dur.



A musical staff in treble clef showing the C major scale. The notes are: C<sup>1</sup>, D<sup>1</sup>, E<sup>1</sup>, F<sup>1</sup>, G<sup>1</sup>, A<sup>1</sup>, H<sup>1</sup>, C<sup>2</sup>. The notes C<sup>1</sup>, D<sup>1</sup>, and C<sup>2</sup> are filled in. The notes E<sup>1</sup>, F<sup>1</sup>, G<sup>1</sup>, and A<sup>1</sup> are missing, indicated by blank spaces on the staff.

#### 33. Takt štvorštvrt'ový

Napiš noty a pomlčky tak, aby bol každý takt na štyri doby. Prvý takt je doplnený.

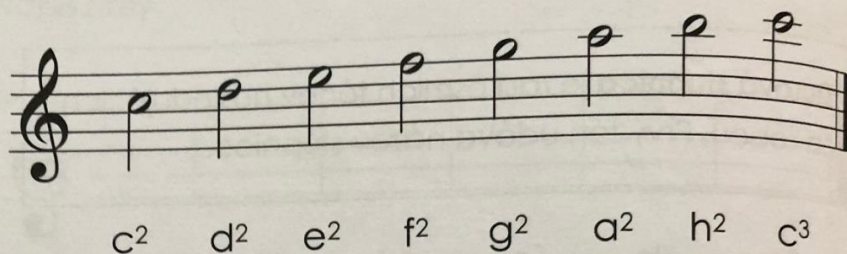


Two musical staves in treble clef. The top staff has a 4/4 time signature and a first measure containing three quarter notes: C<sup>1</sup>, D<sup>1</sup>, and E<sup>1</sup>. The rest of the first measure and the second measure are blank. The bottom staff is completely blank.

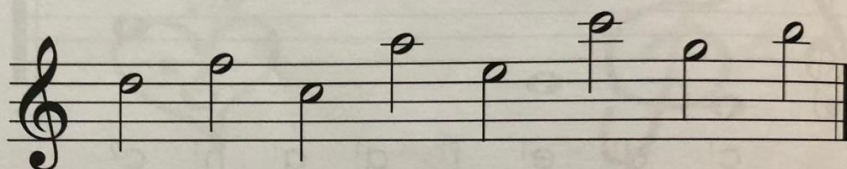
## DOMÁCA ÚLOHA

Doplníme správne rytmické hodnoty v 4štvrt'ovom takte, kde počet dôb bude štyri štvrt'ové doby. V PZ na str.24 sa naučíme zapísať noty od c<sup>2</sup>-c<sup>3</sup> a písanie upevníme v cvičeniach v PZ.

### 34. Noty



Spoj čiarou noty a ich názvy.



c<sup>2</sup> d<sup>2</sup> e<sup>2</sup> f<sup>2</sup> g<sup>2</sup> a<sup>2</sup> h<sup>2</sup> c<sup>3</sup>

Doplň názvy nôt.

